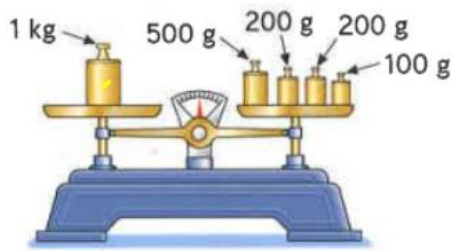
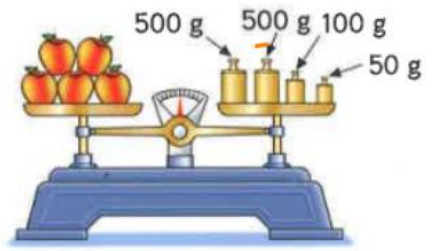


## Découvrons ensemble .....

- Observe, recopie et complète les égalités.



1 kilogramme (kg) = .... grammes (g)



Masse des pommes = .... g

Masse des pommes = .... kg .... g

- Un hippopotame pèse 1 t 700 kg et un rhinocéros noir 1400 kg. Quel est le plus lourd de ces deux animaux ?

1 tonne (t) = 1000 kg

Pour comparer des masses, exprime-les dans la même unité.



## Je m'entraîne .....

- Écris la bonne masse.



100 g / 100 kg



2 g / 2 kg

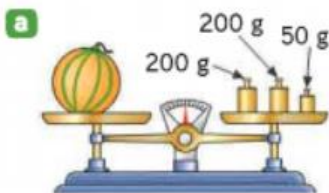


400 g / 400 kg

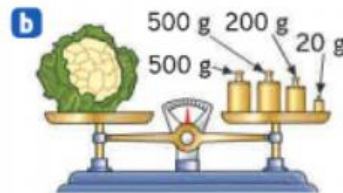


25 t / 25 kg

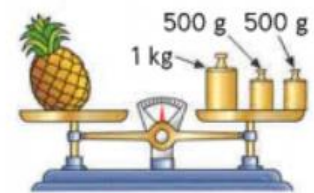
- Calcule les masses des objets pesés.



Masse du melon : ....



Masse du chou-fleur : ....



Masse de l'ananas : ....

- Problème :** Un requin blanc pèse 1300 kg et un orque femelle 2 t. Quel est le plus lourd de ces deux animaux ?

